

Федеральная команда
школьников по искусству (МХК)
в ЛКЧ «Солн» ст. Световское
Труботова Зыгара Филиппа
10 класс

ВСЕРОССИЙСКАЯ ОЛИМПИАДА ШКОЛЬНИКОВ
ИСКУССТВО (МХК). 2025–2026 уч. г.
ШКОЛЬНЫЙ ЭТАП. 10-
11 КЛАССЫ ЗАДАНИЯ

Максимальный балл за работу – 100

Уважаемый участник!

При выполнении заданий вам предстоит определённая работа, которую лучше организовывать следующим образом:

- внимательно прочитайте задание и посмотрите на предложенные вам источники;
- если вы не уверены в ответе, не волнуйтесь – в материале заданий очень часто содержатся важные детали, опираясь на которые вы логически можете прийти к верному ответу;
- чётко распределяйте собственное время, обращая внимание на количество баллов за каждое задание.

За каждый правильный ответ вы можете получить определённое членами жюри количество баллов, но не выше указанной максимальной оценки.

Сумма набранных баллов за все решённые вопросы – итог вашей работы. Максимальное количество баллов – 100.

Задания считаются выполненными, если вы вовремя дали их членам жюри.

Желаем успеха!

4 **Задание 01**

Укажите понятие, которое не является видом изобразительного искусства:

А-Живопись

В-Театр

С-Графика

Д - Скульптура

Правильный ответ- В

4 Задание 02

Укажите понятие, которое не относится к жанрам изобразительного искусства:

А-Портрет

В-Коллаж

С-Натюрморт

Д-Пейзаж

Е - Марина

Правильный ответ - В

0 Задание 03

Все художники в этом ряду объединены одной эпохой в истории русского искусства.

Укажите лишнего.

А-Валентин Серов

В-Илья Репин

С-Борис Кустодиев

Д-Орест Кипренский

Правильный ответ - А

4 Задание 04

Укажите термин, который не имеет отношения к архитектуре:

А-Капитель

В-Мастихин

С-Волюта

Д - Ордер

Правильный ответ - В

4 Задание 05

Укажите термин, который относится к музыкальному искусству:

A-Мастихин

B-Токката

C-Штихель

D - Метопя

Правильный ответ- B

Задание 06

0 Как в средневековом и ренессансном искусстве называлось изображение строителя храма или заказчика произведения живописи или скульптуры?

Отметьте верный вариант ответа.

A-Бенефактор

B-Доминус

C-Донатор

D-Протектор

Правильный ответ- A

Задание 07

4 Укажите период в истории культуры, которого не существует:

A-Ренессанс

B-Средние века

C-Древние века

D - Античность

Правильный ответ- C

0 Задание 08

Укажите прилагательное, которое не относится к описанию стиля классицизм:

А-Строгий

В-Симметричный

С-Торжественный

Д - Динамичный

Правильный ответ- А

Задание 09

4 Укажите термин, который является названием музыкального инструмента:

А-Тромбон

В-Кракелюр

С-Мандорла

Д - Тромплей

Правильный ответ- А

Задание 10

4 В списке имен черепашек-ниндзя отметьте то, которое не в знаменитой серии комиксов:

А-Донателло

В-Микеланджело

С-Боттичелли

Д - Рафаэль

Правильный ответ- С


4 Задание 11

Укажите произведение, которое не представляет исторический жанр:

1



2



3



4



А-Произведение №1

В-Произведение №2

С-Произведение №3

Д-Произведение №4

Правильный ответ - С

4 Задание 12

Какие из представленных сооружений соответствуют стилю классицизм?

Отметь те сооружение, представляющее другой стиль архитектуры.

1



2



3



4



А-Сооружение №1

В-Сооружение №2

С-Сооружение №3

Д - Сооружение № 4

Правильный ответ- D

4 Задание 13

Укажите лишнее произведение в приведенном ряду:


1



2



3



4



А-Произведение №1

В-Произведение №2

С-Произведение №3

Д-Произведение №4

Правильный ответ - С


0 **Задание 14.**

В ряду фрагментов живописных произведений отметь те лишние, относящийся к другому произведению.

1



2



3



4



А-Произведение №1

В-Произведение №2

С-Произведение №3

Д-Произведение №4

Правильный ответ- А

0 **Задание 15**

Какие сооружения иллюстрируют стиль ампира?

Отметь те лишнее в этом ряду.

1



2



3



4



А-Произведение №1

В-Произведение №2

С-Произведение №3

Д-Произведение №4

Правильный ответ- В

0 **Задание 16**

Укажите автора и название описанного в тексте произведения:

На переднем плане полотна изображена березовая роща, раскинувшаяся по обе стороны неширокой глубокой речки, обрывистые берега которой поросли травой и кустарником. Сквозь них кое-где проглядывают участки красновато-бурой земли. Выше по склону изображены белоствольные красавицы-березы, сверкающие золотом в лучах нежаркого осеннего солнца. Возникает ощущение, что желтое и красное золото разлито в самом воздухе. Самого солнца на полотне не видно, однако зритель ощущает, что его лучи как будто играют по поверхности всего холста. На правом берегу речки мастер изобразил зеленовато-серые, словно выцветшие на солнце и вымытые частыми осенними дождями деревья. На дальнем плане можно разглядеть небольшую деревушку с крестьянскими избами.

А-«Золотая осень» Исаака Левитана

В-«Золотая осень» Василия Поленова

С-«Золотая осень» Ивана Шишкина

Д-«Осень в деревне» Михаила Нестерова

Правильный ответ - С

4 **Задание 17**

Укажите художественное направление, о котором идет речь в тексте:

Стилевое течение в изобразительном и декоративном искусстве стран Западной Европы и Америки второй четверти XX века, получившее название от Международной выставки декоративного искусства и промышленности (Париж, 1925). Для стиля характерны строгая закономерность, смелые геометрические линии, этнические геометрические узоры, оформление в полутонах, отсутствие ярких цветов в оформлении, при этом — пёстрые орнаменты, роскошь, шик, дорогие современные материалы.

А-конструктивизм

В-арнуво

С-ардеко

Д - хай-тек

Правильный ответ - С

0 **Задание 18**

Укажите произведение русского искусства, которому посвящены эти строки А. С. Пушкина:

И он по площади пустой

Бежит слышит засобой—

Как будто грома грохотанье—

Тяжело-звонкое скаканье

По потрясенной мостовой.

И, озарен луною бледной,

Простерши руку ввышине, За

ним несется [...]

На звонко-скачущем коне;

А-«Памятник Николаю I» Клодта

В-«Памятник Александру III» Трубецкого

С-«Памятник Петру I» Фальконе

Д-Пушкину» Опекушина

Правильный ответ - **A**

0 Задание 19

Какое из утверждений описания данного произведения неверно?

Отметьте верный вариант ответа.



А-Автор картины – Василий Суриков.

В-Произведение рассказывает о реальном эпизоде истории России.

С-На картине изображены крестьяне, отказавшиеся платить налоги.

Д-Художник в этом полотне намеренно изменил планировку Красной площади.

Правильный ответ- Д

4 Задание 20

Сцена из какого балета представлена на фотокадре?

Отметьте верный вариант ответа.



А-Ромео и Джульетта

В-Баядерка

С-Лебединое озеро

Д-Спящая красавица

Правильный ответ- В

4 Задание 21

Какое из утверждений описания данного произведения неверно?

Отметьте верный вариант ответа.



А-Автор произведения Рембрандт.

В-Произведение хранится в Государственном Эрмитаже.

С-Второе название произведения «Блудный сын в таверне».

Д-Произведение является одним из последних, написанных художником.

Правильный ответ - В

4 Задание 22

Какие утверждения несправедливы для описания этого произведения?

Отметьте верный вариант ответа.



А-Автор картины – Леонардо да Винчи.

В-Автор произведения – один из крупнейших мастеров Ренессанса.

С-Произведение – парный портрету Моны Лизы.

Д-Произведение хранится в Национальном музее в Кракове. Правильный

ответ –

0 Задание 23

Какие направления в искусстве XX века описываются строками ниже?

Названия направлений впишите в поле для ответа строчными буквами одним словом.

Метод ... предопределяет глубокую связь произведений искусства с современной действительностью, активное участие искусства в социалистическом строительстве. Задачи ... требуют от каждого художника истинного понимания смысла совершающихся в стране событий,

умения оценивать явления общественной жизни в развитии, в сложном диалектическом взаимодействии.

Правильный ответ-

0 Задание 24

На фотографии представлено здание одного из главных театров России.


В полепишите только фамилию архитектора сооружения.



Правильный ответ-

Задание 25

4 Укажите произведение, которое не относится к поп-арту:



А-Произведение №1

В-Произведение №2

С-Произведение №3

Д-Произведение №4

Правильный ответ - С